

इस प्रश्न-पत्र में 29 प्रश्न तथा 10 मुद्रित पृष्ठ हैं + भारत का रेखामानचित्र है।

कोड नं०

[illegible]

Set / सेट

A

(213)

1.

2.

1. Candidate must write his/her Roll Number on the first page of the Question Paper.
2. Please check the Question Paper to verify that the total pages and total number of questions contained in the Question Paper are the same as those printed on the top of the first page. Also check to see that the questions are in sequential order.
3. For the objective type of questions, you have to choose any one of the four alternatives given in the question, i.e., (A), (B), (C) or (D) and indicate your correct answer in the Answer-Book given to you.
4. All the questions including objective-type questions are to be answered within the allotted time and no separate time limit is fixed for answering objective-type questions.
5. Making any identification mark in the Answer-Book or writing Roll Number anywhere other than the specified places will lead to disqualification of the candidate.
6. Write your Question Paper Code No. 65/ES/4, Set **A** on the Answer-Book.

7. (a) The Question Paper is in English/Hindi medium only. However, if you wish, you can answer in any one of the languages listed below :

English, Hindi, Urdu, Punjabi, Bengali, Tamil, Malayalam, Kannada, Telugu, Marathi, Odia, Gujarati, Konkani, Manipuri, Assamese, Nepali, Kashmiri, Sanskrit and Sindhi.

You are required to indicate the language you have chosen to answer in the box provided in the Answer-Book.

- (b) If you choose to write the answer in the language other than Hindi and English, the responsibility for any errors/mistakes in understanding the questions will be yours only.

सामान्य अनुदेश :

1. परीक्षार्थी प्रश्न-पत्र के पहले पृष्ठ पर अपना अनुक्रमांक अवश्य लिखें।
2. कृपया प्रश्न-पत्र को जाँच लें कि प्रश्न-पत्र के कुल पृष्ठों तथा प्रश्नों की उतनी ही संख्या है जितनी प्रथम पृष्ठ के सबसे ऊपर छपी है। इस बात की जाँच भी कर लें कि प्रश्न क्रमिक रूप में हैं।
3. वस्तुनिष्ठ प्रश्नों में आपको चार विकल्पों (A), (B), (C) तथा (D) में से कोई एक उत्तर चुनना है तथा दी गई उत्तर-पुस्तिका में आप सही उत्तर लिखें।
4. वस्तुनिष्ठ प्रश्नों के साथ-साथ सभी प्रश्नों के उत्तर निर्धारित अवधि के भीतर ही देने हैं। वस्तुनिष्ठ प्रश्नों के लिए अलग से समय नहीं दिया जाएगा।
5. उत्तर-पुस्तिका में पहचान-चिह्न बनाने अथवा निर्दिष्ट स्थानों के अतिरिक्त कहीं भी अनुक्रमांक लिखने पर परीक्षार्थी को अयोग्य ठहराया जाएगा।
6. अपनी उत्तर-पुस्तिका पर प्रश्न-पत्र का कोड नं० 65/ES/4, सेट [A] लिखें।
7. (क) प्रश्न-पत्र केवल हिन्दी/अंग्रेजी में है। फिर भी, यदि आप चाहें तो नीचे दी गई किसी एक भाषा में उत्तर दे सकते हैं :

अंग्रेजी, हिन्दी, उर्दू, पंजाबी, बंगला, तमिल, मलयालम, कन्नड़, तेलुगू, मराठी, उड़िया, गुजराती, कोंकणी, मणिपुरी, असमिया, नेपाली, कश्मीरी, संस्कृत और सिन्धी।

कृपया उत्तर-पुस्तिका में दिए गए बॉक्स में लिखें कि आप किस भाषा में उत्तर लिख रहे हैं।

- (ख) यदि आप हिन्दी एवं अंग्रेजी के अतिरिक्त किसी अन्य भाषा में उत्तर लिखते हैं, तो प्रश्नों को समझने में होने वाली त्रुटियों/गलतियों की जिम्मेदारी केवल आपकी होगी।



SOCIAL SCIENCE

सामाजिक विज्ञान

(213)

Time : 3 Hours]

[Maximum Marks : 100

समय : 3 घण्टे]

[पूर्णांक : 100

- Note :* (i) All questions are compulsory and carry marks as indicated against each question.
(ii) For Multiple Choice Questions, *four* options are given. You have to choose the right option and indicate it in your Answer-Book.
(iii) Attach the map with your Answer-Book.

- निर्देश :** (i) सभी प्रश्न अनिवार्य हैं और प्रत्येक प्रश्न के अंक उसके सामने दिए गए हैं।
(ii) बहुविकल्पीय प्रश्नों के चार विकल्प दिए गए हैं। आप सही विकल्प चुनिए और अपनी उत्तर-पुस्तिका में लिखिए।
(iii) दिये गये रेखामानचित्रों को उत्तर-पुस्तिका के साथ संलग्न कीजिए।

1. Which one of the following latitudes passes through the centre of our country? 1

- (A) 23° 30' N (B) 23° 30' S
(C) 8° 4' N (D) 6° 4' N

निम्नलिखित अक्षांशों में से कौन-सा हमारे देश के मध्य भाग से गुजरता है?

- (A) 23° 30' N (B) 23° 30' S
(C) 8° 4' N (D) 6° 4' N

2. Which one of the following rivers flows towards the West of India? 1

- (A) Kaveri (B) Krishna
(C) Godavari (D) Narmada

निम्नलिखित नदियों में से कौन-सी भारत के पश्चिम की ओर बहती है?

- (A) कावेरी (B) कृष्णा
(C) गोदावरी (D) नर्मदा



3. Which one of the following comes under the category of the Fundamental Duties? 1

- (A) Right to Equality (B) Right to Freedom
(C) Right to Education (D) To safeguard public property

निम्नलिखित में से कौन-सा मौलिक कर्तव्यों की श्रेणी में आता है?

- (A) समानता का अधिकार (B) स्वतंत्रता का अधिकार
(C) शिक्षा का अधिकार (D) सार्वजनिक सम्पत्ति की सुरक्षा करना

4. Which one of the following is the regional political party in Maharashtra? 1

- (A) National Conference (B) Rashtriya Janata Dal
(C) Trinamool Congress (D) Shiv Sena

निम्नलिखित में से कौन-सा महाराष्ट्र में प्रान्तीय राजनीतिक दल है?

- (A) राष्ट्रीय कॉन्फ्रेंस (B) राष्ट्रीय जनता दल
(C) तृणमूल कांग्रेस (D) शिव सेना

5. What is the meaning of socialism? 2

समाजवाद का क्या अर्थ है?

6. How did the Azad Hind Fauj inspire public for Independence? 2

आजाद हिन्द फौज ने जनता को स्वतंत्रता के लिए किस प्रकार प्रेरित किया?

7. Explain any *two* characteristics of 'Indian National Trade Union'. 1×2=2

‘भारतीय राष्ट्रीय व्यापार संघ’ की किन्हीं दो विशेषताओं को स्पष्ट कीजिए।



8. Examine the significance of 'District Administration'. 2
'जिला प्रशासन' के महत्त्व की परख कीजिए।
9. Describe the main features of the society and economy during the Indus Valley Civilization. 4
सिंधु घाटी सभ्यता के दौरान समाज और अर्थव्यवस्था की मुख्य विशेषताओं का वर्णन कीजिए।
10. Describe the *two* main factors responsible for population growth. 2×2=4
जनसंख्या वृद्धि के लिए उत्तरदायी दो मुख्य कारकों का वर्णन कीजिए।
11. Describe the main features of Directive Principles promoting 'social and economic equality'. 4
'सामाजिक और आर्थिक समानता' को प्रोन्नत करने वाले 'निदेशक सिद्धांतों' की मुख्य विशेषताओं का वर्णन कीजिए।
12. Describe the main features of the 73rd Constitutional Amendment, 1992. 4
73वें संविधान संशोधन, 1992 की मुख्य विशेषताओं का वर्णन कीजिए।
13. Establish the relationship between the Governor and the Council of Ministers. 4
राज्यपाल और मंत्रिपरिषद् के बीच संबंध स्थापित कीजिए।
14. How did the socio-religious reform movements lead the 'National Movement'? Explain. 4
सामाजिक-धार्मिक सुधार आंदोलनों ने किस प्रकार 'राष्ट्रीय आंदोलन' का नेतृत्व किया? स्पष्ट कीजिए।



15. Why are the means of 'Transport and Communication' called lifelines of the country? Explain. 4
'परिवहन और संचार' के साधनों को देश की जीवनरेखाएँ क्यों कहते हैं? स्पष्ट कीजिए।
16. Why was the process of making the Constitution greatly influenced by various factors? Explain any *four* factors. 4
संविधान बनाने की प्रक्रिया विभिन्न कारकों से बहुत प्रभावित क्यों थी? किन्हीं **चार** कारकों की व्याख्या कीजिए।
17. Why is India described as a Welfare State? Explain. 4
भारत को एक कल्याणकारी राज्य के रूप में क्यों वर्णित किया गया है? स्पष्ट कीजिए।
18. Explain any *four* sources of income of Zila Parishad. 1×4=4
जिला परिषद् की आय के किन्हीं **चार** स्रोतों की व्याख्या कीजिए।
19. Explain the *four* factors promoting 'National Integration'. 1×4=4
'राष्ट्रीय एकीकरण' को प्रोत्त करने वाले **चार** कारकों की व्याख्या कीजिए।
20. Explain any *four* major causes of regional disparities found in India. 1×4=4
भारत में पाई गई प्रादेशिक भिन्नता के किन्हीं **चार** प्रमुख कारणों की व्याख्या कीजिए।
21. Explain, with examples, the salient features of 'National Movement' during the First World War. 4
प्रथम विश्व युद्ध के दौरान 'राष्ट्रीय आंदोलन' की प्रमुख विशेषताओं की उदाहरणों सहित व्याख्या कीजिए।



22. Analyze the results of the Revolt of 1857. 4

‘1857 के विद्रोह’ के परिणामों का विश्लेषण कीजिए।

23. How does ‘Global Warming’ effect the climate of India? Explain with examples. 1×4=4

‘भूमंडलीय तापन’ किस प्रकार भारत की जलवायु को प्रभावित करता है? उदाहरणों सहित व्याख्या कीजिए।

24. Describe the main features of ‘Medieval Indian Economy’. 5

‘मध्यकालीन भारतीय अर्थव्यवस्था’ की मुख्य विशेषताओं का वर्णन कीजिए।

25. What is meant by ‘Sarva Shiksha Abhiyan’? Describe its main objectives. 1+4=5

‘सर्व शिक्षा अभियान’ से क्या अभिप्राय है? इसके मुख्य उद्देश्यों का वर्णन कीजिए।

26. Explain the process of Unification of Italy. 5

इटली के एकीकरण की प्रक्रिया को स्पष्ट कीजिए।

27. Explain any *five* factors that are responsible for the development of Railways in India. 1×5=5

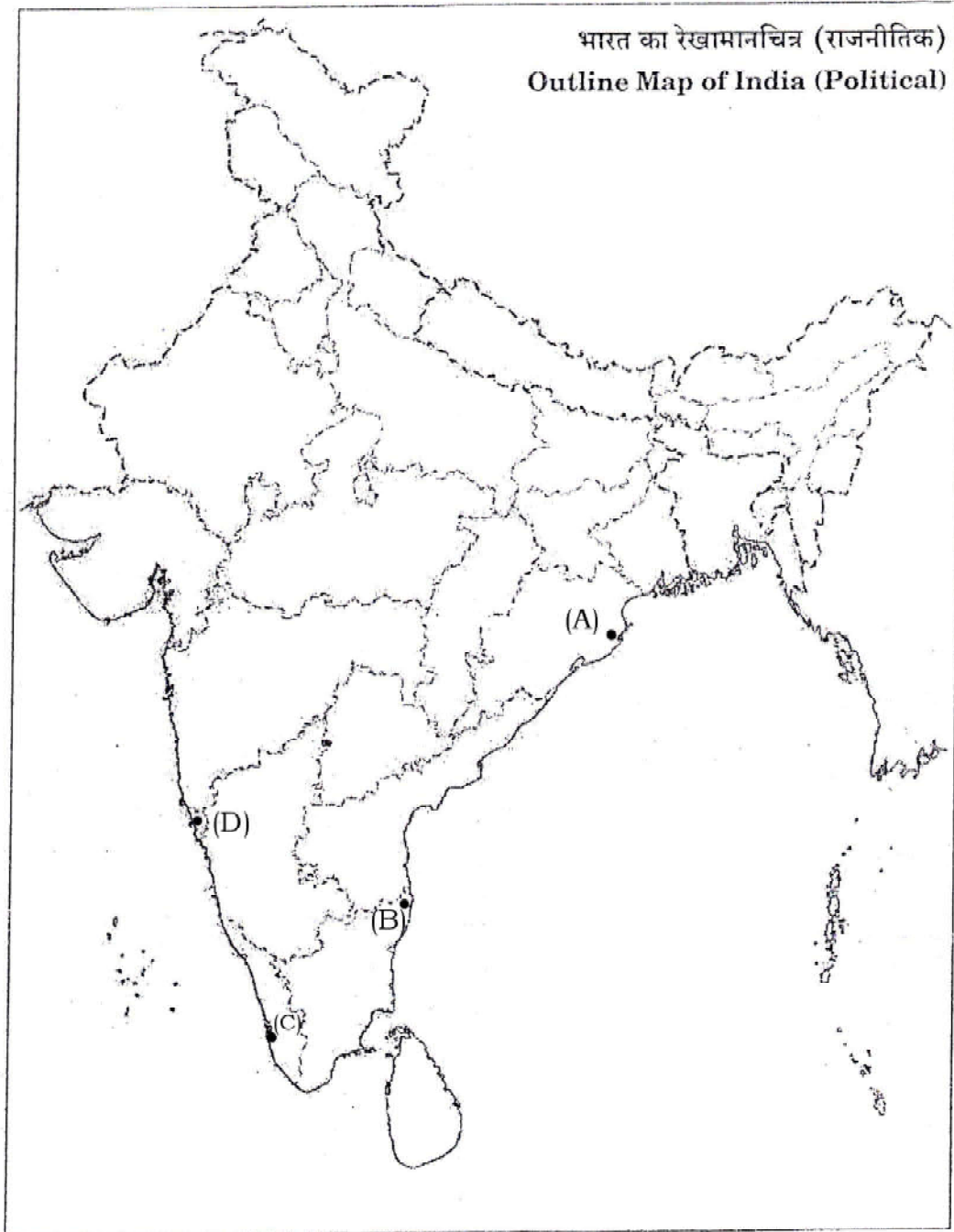
भारत में रेलमार्गों के विकास के लिए उत्तरदायी किन्हीं पाँच कारकों की व्याख्या कीजिए।



- 28.** The *four* major seaports are marked as (A), (B), (C) and (D) on the given Political Outline Map of India. Write their correct names in your answer-book :

1×4=4

दिए गए भारत के राजनीतिक रेखामानचित्र पर **चार** प्रमुख समुद्री पत्तन (A), (B), (C) और (D) से अंकित किए गए हैं। उनके सही नाम अपनी उत्तर-पुस्तिका में लिखिए :



29. Locate and label the following *four* geographical features on the given Political Outline Map of India with suitable symbols : 1×4=4

- (a) Western Ghats
- (b) Krishna River
- (c) Gir National Park
- (d) The State having the lowest density of population

निम्नलिखित चार भौगोलिक लक्षणों को दिए गए भारत के रेखामानचित्र में उपयुक्त चिह्नों से दर्शाइए और उनके नाम लिखिए :

- (क) पश्चिमी घाट
- (ख) कृष्णा नदी
- (ग) गिर राष्ट्रीय पार्क
- (घ) सबसे कम जनसंख्या घनत्व वाला राज्य

Note : The following questions are for the **Visually-impaired Candidates only** in lieu of Question Nos. **28** and **29** : 2×4=8

- (a) Name any *two* major seaports located on the Western Coast of India.
- (b) Name any *two* major seaports located on the Eastern Coast of India.
- (c) Name any *two* famous peaks of the Western Ghats.
- (d) Name any *two* National Parks located on the Eastern Parts of India.



नोट : निम्नलिखित प्रश्न केवल दृष्टिबाधित परीक्षार्थियों के लिए प्रश्न संख्या 28 तथा 29 के स्थान पर हैं :

(क) भारत के पश्चिमी तट पर स्थित किन्हीं दो प्रमुख समुद्री पत्तनों के नाम लिखिए।

(ख) भारत के पूर्वी तट पर स्थित किन्हीं दो प्रमुख समुद्री पत्तनों के नाम लिखिए।

(ग) पश्चिमी घाट की किन्हीं दो प्रसिद्ध चोटियों के नाम लिखिए।

(घ) भारत के पूर्वी भाग में स्थित किन्हीं दो राष्ट्रीय पार्कों के नाम लिखिए।

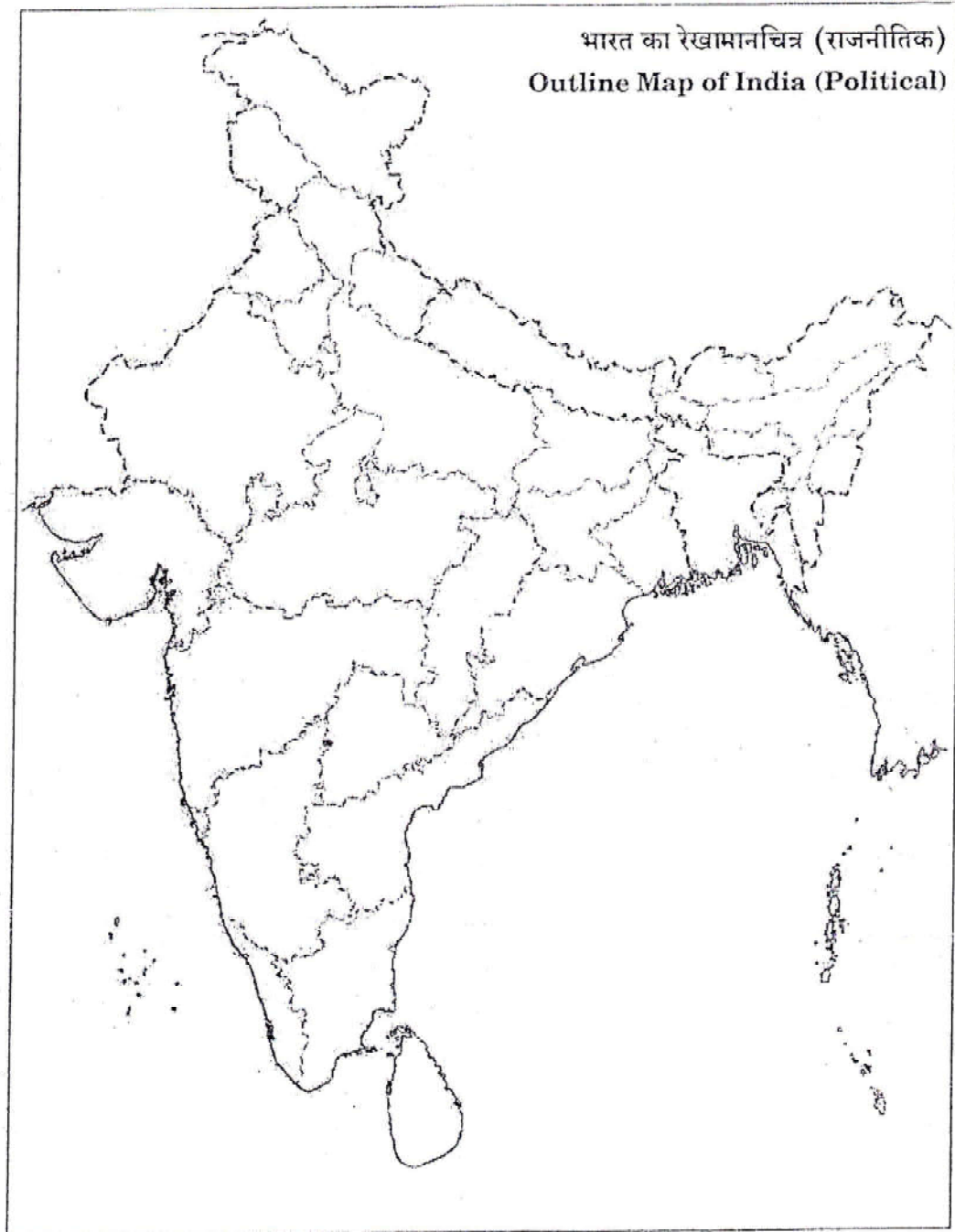
★ ★ ★



Map for Q. No. 29
प्रश्न सं० 29 के लिए रेखामानचित्र

Roll No.
अनुक्रमांक

--	--	--	--	--	--	--	--	--	--	--	--



इस प्रश्न-पत्र में 29 प्रश्न तथा 10 मुद्रित पृष्ठ हैं + भारत का रेखामानचित्र है। **Code No. 65/ES/4**

कोड नं०

Set / सेट

B

(213)

2.

1. Candidate must write his/her Roll Number on the first page of the Question Paper.
2. Please check the Question Paper to verify that the total pages and total number of questions contained in the Question Paper are the same as those printed on the top of the first page. Also check to see that the questions are in sequential order.
3. For the objective type of questions, you have to choose any one of the four alternatives given in the question, i.e., (A), (B), (C) or (D) and indicate your correct answer in the Answer-Book given to you.
4. All the questions including objective-type questions are to be answered within the allotted time and no separate time limit is fixed for answering objective-type questions.
5. Making any identification mark in the Answer-Book or writing Roll Number anywhere other than the specified places will lead to disqualification of the candidate.
6. Write your Question Paper Code No. 65/ES/4, Set **B** on the Answer-Book.

7. (a) The Question Paper is in English/Hindi medium only. However, if you wish, you can answer in any one of the languages listed below :

English, Hindi, Urdu, Punjabi, Bengali, Tamil, Malayalam, Kannada, Telugu, Marathi, Odia, Gujarati, Konkani, Manipuri, Assamese, Nepali, Kashmiri, Sanskrit and Sindhi.

You are required to indicate the language you have chosen to answer in the box provided in the Answer-Book.

- (b) If you choose to write the answer in the language other than Hindi and English, the responsibility for any errors/mistakes in understanding the questions will be yours only.

सामान्य अनुदेश :

1. परीक्षार्थी प्रश्न-पत्र के पहले पृष्ठ पर अपना अनुक्रमांक अवश्य लिखें।
2. कृपया प्रश्न-पत्र को जाँच लें कि प्रश्न-पत्र के कुल पृष्ठों तथा प्रश्नों की उतनी ही संख्या है जितनी प्रथम पृष्ठ के सबसे ऊपर छपी है। इस बात की जाँच भी कर लें कि प्रश्न क्रमिक रूप में हैं।
3. वस्तुनिष्ठ प्रश्नों में आपको चार विकल्पों (A), (B), (C) तथा (D) में से कोई एक उत्तर चुनना है तथा दी गई उत्तर-पुस्तिका में आप सही उत्तर लिखें।
4. वस्तुनिष्ठ प्रश्नों के साथ-साथ सभी प्रश्नों के उत्तर निर्धारित अवधि के भीतर ही देने हैं। वस्तुनिष्ठ प्रश्नों के लिए अलग से समय नहीं दिया जाएगा।
5. उत्तर-पुस्तिका में पहचान-चिह्न बनाने अथवा निर्दिष्ट स्थानों के अतिरिक्त कहीं भी अनुक्रमांक लिखने पर परीक्षार्थी को अयोग्य ठहराया जाएगा।
6. अपनी उत्तर-पुस्तिका पर प्रश्न-पत्र का कोड नं० 65/ES/4, सेट [B] लिखें।
7. (क) प्रश्न-पत्र केवल हिन्दी/अंग्रेजी में है। फिर भी, यदि आप चाहें तो नीचे दी गई किसी एक भाषा में उत्तर दे सकते हैं :

अंग्रेजी, हिन्दी, उर्दू, पंजाबी, बंगला, तमिल, मलयालम, कन्नड़, तेलुगू, मराठी, उड़िया, गुजराती, कोंकणी, मणिपुरी, असमिया, नेपाली, कश्मीरी, संस्कृत और सिन्धी।

कृपया उत्तर-पुस्तिका में दिए गए बॉक्स में लिखें कि आप किस भाषा में उत्तर लिख रहे हैं।

- (ख) यदि आप हिन्दी एवं अंग्रेजी के अतिरिक्त किसी अन्य भाषा में उत्तर लिखते हैं, तो प्रश्नों को समझने में होने वाली त्रुटियों/गलतियों की जिम्मेदारी केवल आपकी होगी।



SOCIAL SCIENCE

सामाजिक विज्ञान

(213)

Time : 3 Hours]

[Maximum Marks : 100

समय : 3 घण्टे]

[पूर्णांक : 100

- Note :* (i) All questions are compulsory and carry marks as indicated against each question.
(ii) For Multiple Choice Questions, *four* options are given. You have to choose the right option and indicate it in your Answer-Book.
(iii) Attach the map with your Answer-Book.

- निर्देश :** (i) सभी प्रश्न अनिवार्य हैं और प्रत्येक प्रश्न के अंक उसके सामने दिए गए हैं।
(ii) बहुविकल्पीय प्रश्नों के चार विकल्प दिए गए हैं। आप सही विकल्प चुनिए और अपनी उत्तर-पुस्तिका में लिखिए।
(iii) दिये गये रेखामानचित्रों को उत्तर-पुस्तिका के साथ संलग्न कीजिए।

1. Which one of the following is the regional political party in Maharashtra? 1

- (A) National Conference (B) Rashtriya Janata Dal
(C) Trinamool Congress (D) Shiv Sena

निम्नलिखित में से कौन-सा महाराष्ट्र में प्रान्तीय राजनीतिक दल है?

- (A) राष्ट्रीय कॉन्फ्रेंस (B) राष्ट्रीय जनता दल
(C) तृणमूल काँग्रेस (D) शिव सेना

2. Which one of the following comes under the category of the Fundamental Duties? 1

- (A) Right to Equality (B) Right to Freedom
(C) Right to Education (D) To safeguard public property

निम्नलिखित में से कौन-सा मौलिक कर्तव्यों की श्रेणी में आता है?

- (A) समानता का अधिकार (B) स्वतंत्रता का अधिकार
(C) शिक्षा का अधिकार (D) सार्वजनिक सम्पत्ति की सुरक्षा करना



3. Which one of the following rivers flows towards the West of India? 1

- (A) Kaveri (B) Krishna
(C) Godavari (D) Narmada

निम्नलिखित नदियों में से कौन-सी भारत के पश्चिम की ओर बहती है?

- (A) कावेरी (B) कृष्णा
(C) गोदावरी (D) नर्मदा

4. Which one of the following latitudes passes through the centre of our country? 1

- (A) 23° 30' N (B) 23° 30' S
(C) 8° 4' N (D) 6° 4' N

निम्नलिखित अक्षांशों में से कौन-सा हमारे देश के मध्य भाग से गुजरता है?

- (A) 23° 30' N (B) 23° 30' S
(C) 8° 4' N (D) 6° 4' N

5. What is the meaning of Secularism? 2

पंथनिरपेक्षता से क्या अभिप्राय है?

6. Explain *two* basic features of the Government of India Act, 1935. 1×2=2

भारतीय सरकार अधिनियम, 1935 की दो मूलभूत विशेषताओं को स्पष्ट कीजिए।

7. Examine the significance of 'District Administration'. 2

'जिला प्रशासन' के महत्त्व की परख कीजिए।



8. Explain any *two* characteristics of 'Indian National Trade Union'. 1×2=2

‘भारतीय राष्ट्रीय व्यापार संघ’ की किन्हीं दो विशेषताओं को स्पष्ट कीजिए।

9. Describe the main features of the 'Town Planning' of the Indus Valley Civilization. 4

‘सिन्धु घाटी सभ्यता’ की ‘नगर योजना’ की मुख्य विशेषताओं का वर्णन कीजिए।

10. Describe the significant implications of the age composition of population for the development of a country. 4

किसी देश के विकास के लिए जनसंख्या की आयु संरचना के महत्वपूर्ण निहितार्थों का वर्णन कीजिए।

11. Describe the main features of Directive Principles related to Gandhian thought. 4

गांधी के विचारों से संबंधित निदेशक सिद्धान्तों की मुख्य विशेषताओं का वर्णन कीजिए।

12. How does 'Global Warming' effect the climate of India? Explain with examples. 1×4=4

‘भूमंडलीय तापन’ किस प्रकार भारत की जलवायु को प्रभावित करता है? उदाहरणों सहित व्याख्या कीजिए।

13. Analyze the results of the Revolt of 1857. 4

‘1857 के विद्रोह’ के परिणामों का विश्लेषण कीजिए।

14. Explain, with examples, the salient features of 'National Movement' during the First World War. 4

प्रथम विश्व युद्ध के दौरान ‘राष्ट्रीय आंदोलन’ की प्रमुख विशेषताओं की उदाहरणों सहित व्याख्या कीजिए।



- 15.** Explain the importance of Railways as a means of transport. 4
परिवहन के साधन के रूप में रेलों का महत्व स्पष्ट कीजिए।
- 16.** Explain any *four* major causes of regional disparities found in India. 1×4=4
भारत में पाई गई प्रादेशिक भिन्नता के किन्हीं **चार** प्रमुख कारणों की व्याख्या कीजिए।
- 17.** Explain the *four* factors promoting 'National Integration'. 1×4=4
'राष्ट्रीय एकीकरण' को प्रोन्नत करने वाले **चार** कारकों की व्याख्या कीजिए।
- 18.** Explain any *four* sources of income of Zila Parishad. 1×4=4
जिला परिषद् की आय के किन्हीं **चार** स्रोतों की व्याख्या कीजिए।
- 19.** Why is India described as a Welfare State? Explain. 4
भारत को एक कल्याणकारी राज्य के रूप में क्यों वर्णित किया गया है? स्पष्ट कीजिए।
- 20.** Why was the process of making the Constitution greatly influenced by various factors? Explain any *four* factors. 4
संविधान बनाने की प्रक्रिया विभिन्न कारकों से बहुत प्रभावित क्यों थी? किन्हीं **चार** कारकों की व्याख्या कीजिए।
- 21.** How did the socio-religious reform movements lead the 'National Movement'? Explain. 4
सामाजिक-धार्मिक सुधार आंदोलनों ने किस प्रकार 'राष्ट्रीय आंदोलन' का नेतृत्व किया? स्पष्ट कीजिए।



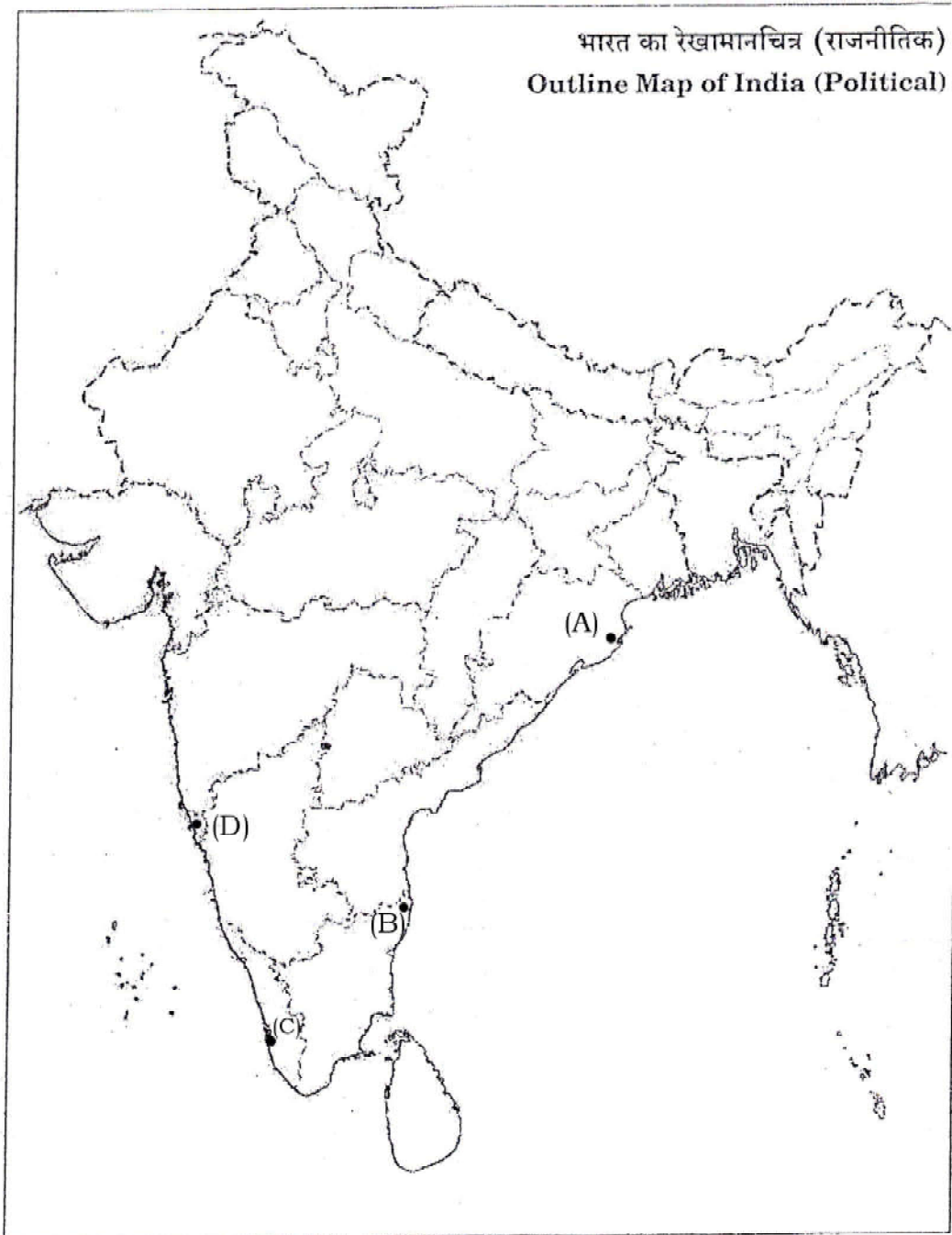
- 22.** Establish the relationship between the Governor and the Council of Ministers. 4
राज्यपाल और मंत्रिपरिषद् के बीच संबंध स्थापित कीजिए।
- 23.** Describe the main features of the 73rd Constitutional Amendment, 1992. 4
73वें संविधान संशोधन, 1992 की मुख्य विशेषताओं का वर्णन कीजिए।
- 24.** Explain any *five* factors that are responsible for the development of Railways in India. 1×5=5
भारत में रेलमार्गों के विकास के लिए उत्तरदायी किन्हीं **पाँच** कारकों की व्याख्या कीजिए।
- 25.** Describe the main features of 'Medieval Indian Economy'. 5
'मध्यकालीन भारतीय अर्थव्यवस्था' की मुख्य विशेषताओं का वर्णन कीजिए।
- 26.** Explain the process of Unification of Germany. 5
जर्मनी के एकीकरण की प्रक्रिया को स्पष्ट कीजिए।
- 27.** What is meant by 'Sarva Shiksha Abhiyan'? Describe its main objectives. 1+4=5
'सर्व शिक्षा अभियान' से क्या अभिप्राय है? इसके मुख्य उद्देश्यों का वर्णन कीजिए।



- 28.** The *four* major seaports are marked as (A), (B), (C) and (D) on the given Political Outline Map of India. Write their correct names in your answer-book :

1×4=4

दिए गए भारत के राजनीतिक रेखामानचित्र पर **चार** प्रमुख समुद्री पत्तन (A), (B), (C) और (D) से अंकित किए गए हैं। उनके सही नाम अपनी उत्तर-पुस्तिका में लिखिए :



29. Locate and label the following *four* geographical features on the given Political Outline Map of India with suitable symbols : 1×4=4

- (a) Western Ghats
- (b) Krishna River
- (c) Gir National Park
- (d) The State having the lowest density of population

निम्नलिखित चार भौगोलिक लक्षणों को दिए गए भारत के रेखामानचित्र में उपयुक्त चिह्नों से दर्शाइए और उनके नाम लिखिए :

- (क) पश्चिमी घाट
- (ख) कृष्णा नदी
- (ग) गिर राष्ट्रीय पार्क
- (घ) सबसे कम जनसंख्या घनत्व वाला राज्य

Note : The following questions are for the **Visually-impaired Candidates only** in lieu of Question Nos. **28** and **29** : 2×4=8

- (a) Name any *two* major seaports located on the Western Coast of India.
- (b) Name any *two* major seaports located on the Eastern Coast of India.
- (c) Name any *two* famous peaks of the Western Ghats.
- (d) Name any *two* National Parks located on the Eastern Parts of India.



नोट : निम्नलिखित प्रश्न केवल दृष्टिबाधित परीक्षार्थियों के लिए प्रश्न संख्या 28 तथा 29 के स्थान पर हैं :

(क) भारत के पश्चिमी तट पर स्थित किन्हीं दो प्रमुख समुद्री पत्तनों के नाम लिखिए।

(ख) भारत के पूर्वी तट पर स्थित किन्हीं दो प्रमुख समुद्री पत्तनों के नाम लिखिए।

(ग) पश्चिमी घाट की किन्हीं दो प्रसिद्ध चोटियों के नाम लिखिए।

(घ) भारत के पूर्वी भाग में स्थित किन्हीं दो राष्ट्रीय पार्कों के नाम लिखिए।

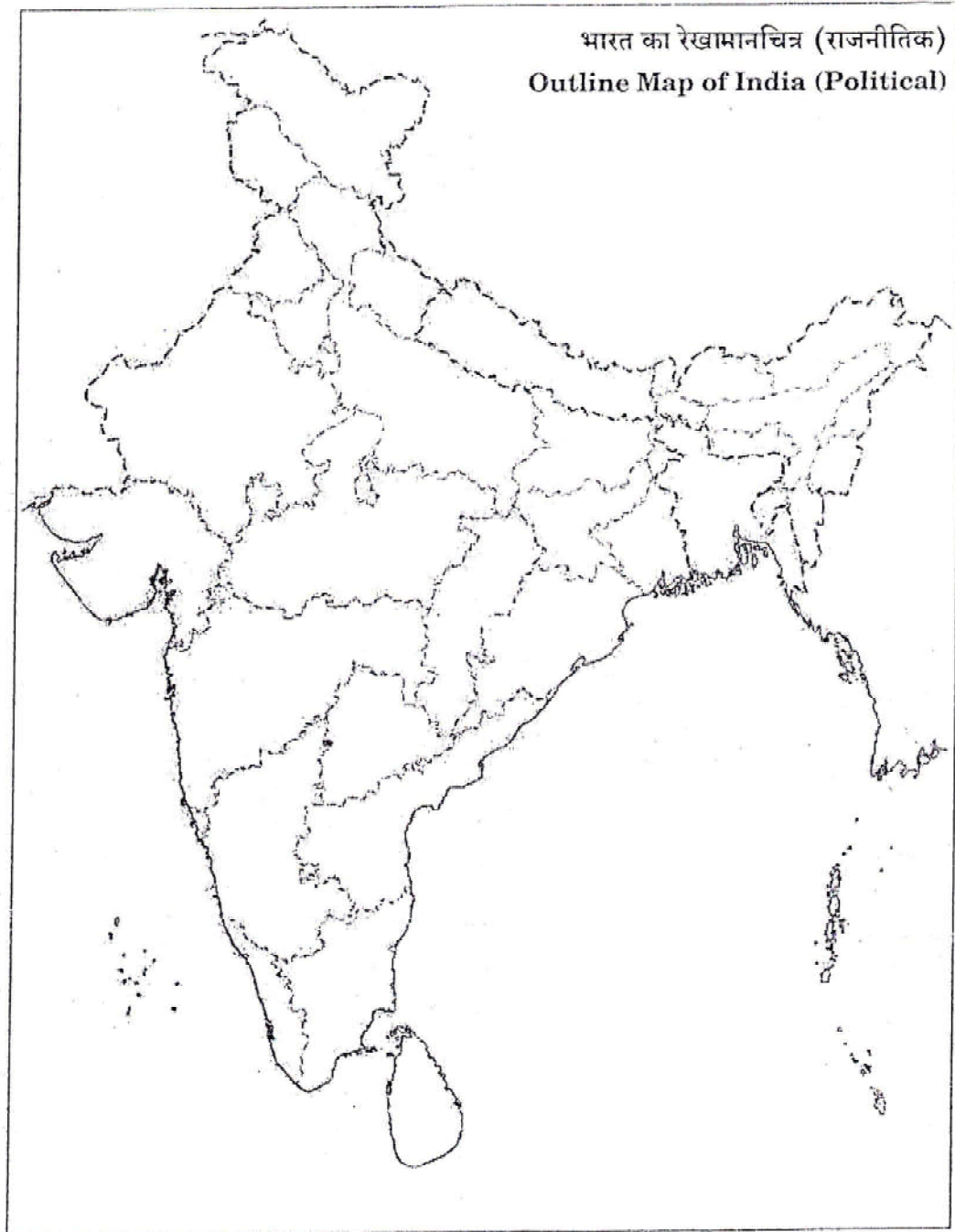
★ ★ ★



Map for Q. No. 29
प्रश्न सं० 29 के लिए रेखामानचित्र

Roll No.
अनुक्रमांक

--	--	--	--	--	--	--	--	--	--	--	--



This Question Paper consists of 29 questions and 10 printed pages + Outline Map of India.

इस प्रश्न-पत्र में 29 प्रश्न तथा 10 मुद्रित पृष्ठ हैं + भारत का रेखामानचित्र है।

Code No. 65/ES/4

कोड नं०

Roll No.

--	--	--	--	--	--	--	--	--	--	--	--	--	--	--

अनुक्रमांक

Set / सेट

C

SOCIAL SCIENCE

सामाजिक विज्ञान

(213)

Day and Date of Examination

(परीक्षा का दिन व दिनांक)

Signature of Invigilators

1.

(निरीक्षकों के हस्ताक्षर)

2.

General Instructions :

1. Candidate must write his/her Roll Number on the first page of the Question Paper.
2. Please check the Question Paper to verify that the total pages and total number of questions contained in the Question Paper are the same as those printed on the top of the first page. Also check to see that the questions are in sequential order.
3. For the objective type of questions, you have to choose any one of the four alternatives given in the question, i.e., (A), (B), (C) or (D) and indicate your correct answer in the Answer-Book given to you.
4. All the questions including objective-type questions are to be answered within the allotted time and no separate time limit is fixed for answering objective-type questions.
5. Making any identification mark in the Answer-Book or writing Roll Number anywhere other than the specified places will lead to disqualification of the candidate.
6. Write your Question Paper Code No. 65/ES/4, Set **C** on the Answer-Book.



7. (a) The Question Paper is in English/Hindi medium only. However, if you wish, you can answer in any one of the languages listed below :

English, Hindi, Urdu, Punjabi, Bengali, Tamil, Malayalam, Kannada, Telugu, Marathi, Odia, Gujarati, Konkani, Manipuri, Assamese, Nepali, Kashmiri, Sanskrit and Sindhi.

You are required to indicate the language you have chosen to answer in the box provided in the Answer-Book.

- (b) If you choose to write the answer in the language other than Hindi and English, the responsibility for any errors/mistakes in understanding the questions will be yours only.

सामान्य अनुदेश :

1. परीक्षार्थी प्रश्न-पत्र के पहले पृष्ठ पर अपना अनुक्रमांक अवश्य लिखें।
2. कृपया प्रश्न-पत्र को जाँच लें कि प्रश्न-पत्र के कुल पृष्ठों तथा प्रश्नों की उतनी ही संख्या है जितनी प्रथम पृष्ठ के सबसे ऊपर छपी है। इस बात की जाँच भी कर लें कि प्रश्न क्रमिक रूप में हैं।
3. वस्तुनिष्ठ प्रश्नों में आपको चार विकल्पों (A), (B), (C) तथा (D) में से कोई एक उत्तर चुनना है तथा दी गई उत्तर-पुस्तिका में आप सही उत्तर लिखें।
4. वस्तुनिष्ठ प्रश्नों के साथ-साथ सभी प्रश्नों के उत्तर निर्धारित अवधि के भीतर ही देने हैं। वस्तुनिष्ठ प्रश्नों के लिए अलग से समय नहीं दिया जाएगा।
5. उत्तर-पुस्तिका में पहचान-चिह्न बनाने अथवा निर्दिष्ट स्थानों के अतिरिक्त कहीं भी अनुक्रमांक लिखने पर परीक्षार्थी को अयोग्य ठहराया जाएगा।
6. अपनी उत्तर-पुस्तिका पर प्रश्न-पत्र का कोड नं० 65/ES/4, सेट [C] लिखें।
7. (क) प्रश्न-पत्र केवल हिन्दी/अंग्रेजी में है। फिर भी, यदि आप चाहें तो नीचे दी गई किसी एक भाषा में उत्तर दे सकते हैं :

अंग्रेजी, हिन्दी, उर्दू, पंजाबी, बंगला, तमिल, मलयालम, कन्नड़, तेलुगू, मराठी, उड़िया, गुजराती, कोंकणी, मणिपुरी, असमिया, नेपाली, कश्मीरी, संस्कृत और सिन्धी।

कृपया उत्तर-पुस्तिका में दिए गए बॉक्स में लिखें कि आप किस भाषा में उत्तर लिख रहे हैं।

- (ख) यदि आप हिन्दी एवं अंग्रेजी के अतिरिक्त किसी अन्य भाषा में उत्तर लिखते हैं, तो प्रश्नों को समझने में होने वाली त्रुटियों/गलतियों की जिम्मेदारी केवल आपकी होगी।



SOCIAL SCIENCE

सामाजिक विज्ञान

(213)

Time : 3 Hours]

[Maximum Marks : 100

समय : 3 घण्टे]

[पूर्णांक : 100

- Note :* (i) All questions are compulsory and carry marks as indicated against each question.
(ii) For Multiple Choice Questions, *four* options are given. You have to choose the right option and indicate it in your Answer-Book.
(iii) Attach the map with your Answer-Book.

- निर्देश :** (i) सभी प्रश्न अनिवार्य हैं और प्रत्येक प्रश्न के अंक उसके सामने दिए गए हैं।
(ii) बहुविकल्पीय प्रश्नों के चार विकल्प दिए गए हैं। आप सही विकल्प चुनिए और अपनी उत्तर-पुस्तिका में लिखिए।
(iii) दिये गये रेखामानचित्रों को उत्तर-पुस्तिका के साथ संलग्न कीजिए।

1. Which one of the following comes under the category of the Fundamental Duties? 1

- (A) Right to Equality (B) Right to Freedom
(C) Right to Education (D) To safeguard public property

निम्नलिखित में से कौन-सा मौलिक कर्तव्यों की श्रेणी में आता है?

- (A) समानता का अधिकार (B) स्वतंत्रता का अधिकार
(C) शिक्षा का अधिकार (D) सार्वजनिक सम्पत्ति की सुरक्षा करना

2. Which one of the following is the regional political party in Maharashtra? 1

- (A) National Conference (B) Rashtriya Janata Dal
(C) Trinamool Congress (D) Shiv Sena

निम्नलिखित में से कौन-सा महाराष्ट्र में प्रान्तीय राजनीतिक दल है?

- (A) राष्ट्रीय कॉन्फ्रेंस (B) राष्ट्रीय जनता दल
(C) तृणमूल काँग्रेस (D) शिव सेना



3. Which one of the following latitudes passes through the centre of our country? 1

- (A) 23° 30' N (B) 23° 30' S
(C) 8° 4' N (D) 6° 4' N

निम्नलिखित अक्षांशों में से कौन-सा हमारे देश के मध्य भाग से गुजरता है?

- (A) 23° 30' N (B) 23° 30' S
(C) 8° 4' N (D) 6° 4' N

4. Which one of the following rivers flows towards the West of India? 1

- (A) Kaveri (B) Krishna
(C) Godavari (D) Narmada

निम्नलिखित नदियों में से कौन-सी भारत के पश्चिम की ओर बहती है?

- (A) कावेरी (B) कृष्णा
(C) गोदावरी (D) नर्मदा

5. What is the meaning of 'fraternity'? 2

‘बन्धुत्व’ का क्या अर्थ है?

6. Explain any *two* major causes of the partition of India. 2

भारत के विभाजन के किन्हीं दो प्रमुख कारकों को स्पष्ट कीजिए।

7. Explain any *two* characteristics of 'Indian National Trade Union'. 1×2=2

‘भारतीय राष्ट्रीय व्यापार संघ’ की किन्हीं दो विशेषताओं को स्पष्ट कीजिए।



8. Examine the significance of 'District Administration'. 2

‘जिला प्रशासन’ के महत्त्व की परख कीजिए।

9. Describe the main features of religion and culture during the Indus Valley Civilization. 4

‘सिन्धु घाटी सभ्यता’ के दौरान धर्म और संस्कृति की मुख्य विशेषताओं का वर्णन कीजिए।

10. Define the term 'sex ratio'. Describe the trend of sex ratio in India. 1+3=4

‘लिंग अनुपात’ शब्द को परिभाषित कीजिए। भारत में लिंग अनुपात की प्रवृत्ति का वर्णन कीजिए।

11. Describe the Directive Principles related to 'International Peace and Security'. 4

‘अन्तर्राष्ट्रीय शान्ति और सुरक्षा’ से संबंधित ‘निदेशक सिद्धान्तों’ का वर्णन कीजिए।

12. Explain, with examples, the salient features of 'National Movement' during the First World War. 4

प्रथम विश्व युद्ध के दौरान ‘राष्ट्रीय आंदोलन’ की प्रमुख विशेषताओं की उदाहरणों सहित व्याख्या कीजिए।

13. How does 'Global Warming' effect the climate of India? Explain with examples. 1×4=4

‘भूमंडलीय तापन’ किस प्रकार भारत की जलवायु को प्रभावित करता है? उदाहरणों सहित व्याख्या कीजिए।



- 14.** Analyze the results of the Revolt of 1857. 4
‘1857 के विद्रोह’ के परिणामों का विश्लेषण कीजिए।
- 15.** Explain the importance of ‘water transport’. 4
‘जल परिवहन’ की महत्ता स्पष्ट कीजिए।
- 16.** Why is India described as a Welfare State? Explain. 4
भारत को एक कल्याणकारी राज्य के रूप में क्यों वर्णित किया गया है? स्पष्ट कीजिए।
- 17.** Explain any *four* sources of income of Zila Parishad. 1×4=4
जिला परिषद् की आय के किन्हीं **चार** स्रोतों की व्याख्या कीजिए।
- 18.** Explain the *four* factors promoting ‘National Integration’. 1×4=4
‘राष्ट्रीय एकीकरण’ को प्रोन्नत करने वाले **चार** कारकों की व्याख्या कीजिए।
- 19.** Explain any *four* major causes of regional disparities found in India. 1×4=4
भारत में पाई गई प्रादेशिक भिन्नता के किन्हीं **चार** प्रमुख कारणों की व्याख्या कीजिए।
- 20.** Describe the main features of the 73rd Constitutional Amendment, 1992. 4
73वें संविधान संशोधन, 1992 की मुख्य विशेषताओं का वर्णन कीजिए।



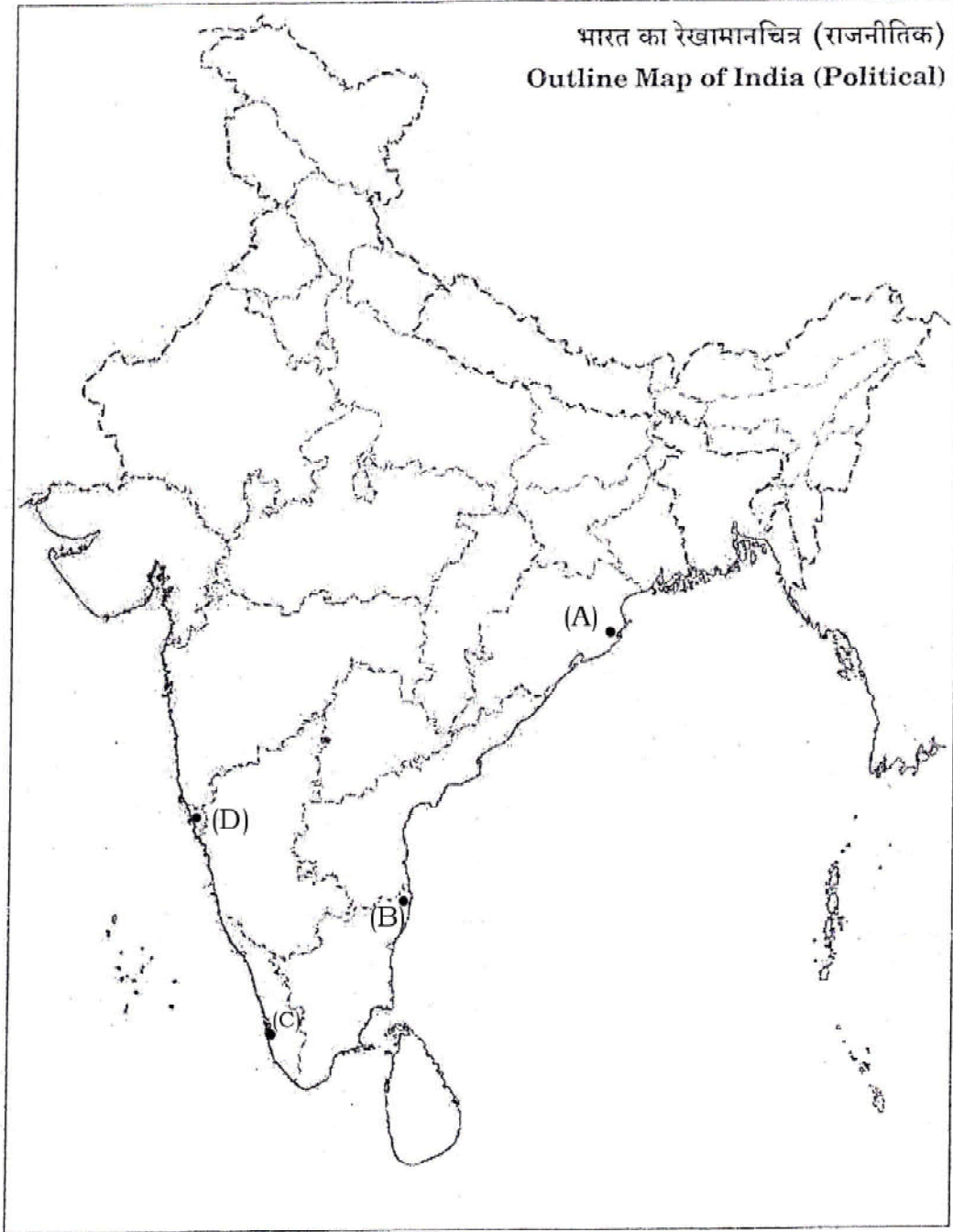
- 21.** Establish the relationship between the Governor and the Council of Ministers. 4
राज्यपाल और मंत्रिपरिषद् के बीच संबंध स्थापित कीजिए।
- 22.** How did the socio-religious reform movements lead the 'National Movement'? Explain. 4
सामाजिक-धार्मिक सुधार आंदोलनों ने किस प्रकार 'राष्ट्रीय आंदोलन' का नेतृत्व किया? स्पष्ट कीजिए।
- 23.** Why was the process of making the Constitution greatly influenced by various factors? Explain any *four* factors. 4
संविधान बनाने की प्रक्रिया विभिन्न कारकों से बहुत प्रभावित क्यों थी? किन्हीं **चार** कारकों की व्याख्या कीजिए।
- 24.** What is meant by 'Sarva Shiksha Abhiyan'? Describe its main objectives. 1+4=5
'सर्व शिक्षा अभियान' से क्या अभिप्राय है? इसके मुख्य उद्देश्यों का वर्णन कीजिए।
- 25.** Explain any *five* factors that are responsible for the development of Railways in India. 1×5=5
भारत में रेलमार्गों के विकास के लिए उत्तरदायी किन्हीं **पाँच** कारकों की व्याख्या कीजिए।
- 26.** Explain the features of 'French Revolution' of 1789. 5
1789 के 'फ्रांस के विद्रोह' की मुख्य विशेषताओं को स्पष्ट कीजिए।
- 27.** Describe the main features of 'Medieval Indian Economy'. 5
'मध्यकालीन भारतीय अर्थव्यवस्था' की मुख्य विशेषताओं का वर्णन कीजिए।



28. The *four* major seaports are marked as (A), (B), (C) and (D) on the given Political Outline Map of India. Write their correct names in your answer-book :

1×4=4

दिए गए भारत के राजनीतिक रेखामानचित्र पर चार प्रमुख समुद्री पत्तन (A), (B), (C) और (D) से अंकित किए गए हैं। उनके सही नाम अपनी उत्तर-पुस्तिका में लिखिए :



29. Locate and label the following *four* geographical features on the given Political Outline Map of India with suitable symbols : 1×4=4

- (a) Western Ghats
- (b) Krishna River
- (c) Gir National Park
- (d) The State having the lowest density of population

निम्नलिखित चार भौगोलिक लक्षणों को दिए गए भारत के रेखामानचित्र में उपयुक्त चिह्नों से दर्शाइए और उनके नाम लिखिए :

- (क) पश्चिमी घाट
- (ख) कृष्णा नदी
- (ग) गिर राष्ट्रीय पार्क
- (घ) सबसे कम जनसंख्या घनत्व वाला राज्य

Note : The following questions are for the **Visually-impaired Candidates only** in lieu of Question Nos. **28** and **29** : 2×4=8

- (a) Name any *two* major seaports located on the Western Coast of India.
- (b) Name any *two* major seaports located on the Eastern Coast of India.
- (c) Name any *two* famous peaks of the Western Ghats.
- (d) Name any *two* National Parks located on the Eastern Parts of India.



नोट : निम्नलिखित प्रश्न केवल दृष्टिबाधित परीक्षार्थियों के लिए प्रश्न संख्या 28 तथा 29 के स्थान पर हैं :

(क) भारत के पश्चिमी तट पर स्थित किन्हीं दो प्रमुख समुद्री पत्तनों के नाम लिखिए।

(ख) भारत के पूर्वी तट पर स्थित किन्हीं दो प्रमुख समुद्री पत्तनों के नाम लिखिए।

(ग) पश्चिमी घाट की किन्हीं दो प्रसिद्ध चोटियों के नाम लिखिए।

(घ) भारत के पूर्वी भाग में स्थित किन्हीं दो राष्ट्रीय पार्कों के नाम लिखिए।

★ ★ ★



Map for Q. No. 29
प्रश्न सं० 29 के लिए रेखामानचित्र

Roll No.
अनुक्रमांक

--	--	--	--	--	--	--	--	--	--	--	--

